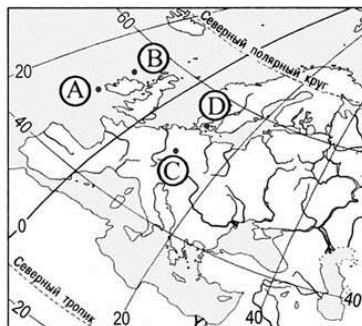


Вступительное испытание по географии

Вопрос №11. Точка В, обозначенная на карте Европы, имеет географические координаты 55° с.ш. и 10° з.д.



Ответы:

1. Неверно
2. Верно

Вопрос №2. Реки Дон и Волга имеют преимущественно снеговое питание.

Ответы:

1. Неверно
2. Верно

Вопрос №3. Численность населения земного шара более 9 млрд чел.

Ответы:

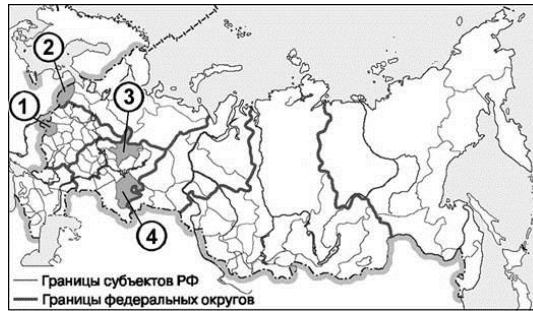
1. Неверно
2. Верно

Вопрос №4. Остров Сахалин расположен в пределах сейсмического пояса.

Ответы:

1. Неверно
2. Верно

Вопрос №5. На политико-административной карте России цифрой 2 обозначена Псковская область.



Ответы:

1. Неверно
2. Верно

Вопрос №6. На какой из перечисленных параллелей 1 июля наблюдается полярный день?

Ответы:

1. 77° с.ш.
2. 77° ю.ш.
3. 60° с.ш.
4. 60° ю.ш.

Вопрос №7. Для какого климатического пояса характерно равномерное выпадение большого количества атмосферных осадков в течение всего года?

Ответы:

1. Субэкваториального
2. Экваториального
3. Арктического
4. Субарктического

Вопрос №8. Электронное машиностроение – отрасль специализации стран:

Ответы:

1. Алжира и Ирана
2. Малайзии и Республики Корея
3. Греции и Саудовской Аравии
4. Португалии и Украины

Вопрос №9. Какая особенность характерна для населения Европейского Севера?

Ответы:

1. Высокий естественный прирост
2. Преобладание сельского населения
3. Неравномерное размещение по территории региона
4. Высокая средняя плотность

Вопрос №10. В каком из перечисленных регионов Поволжья в наибольшем количестве добывается нефть?

Ответы:

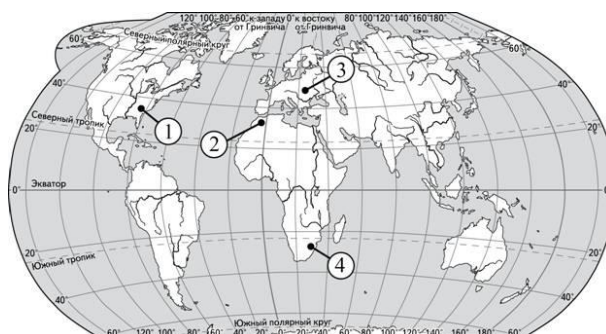
1. Республика Татарстан
2. Республика Калмыкия
3. Пензенская область
4. Астраханская область

Вопрос №11. Какие из перечисленных форм рельефа образуются вследствие эрозии (выберите один или несколько правильных ответов)?

Ответы:

1. Оползни
2. Балки
3. Барханы
4. Овраги

Вопрос №12. Установите соответствие между горной системой и обозначением на карте мира горной вершины, находящейся в пределах этой горной системы: к каждому элементу первого столбца подберите соответствующий элемент из второго столбца.



Ответы:

Расположение на карте	Горная система
1	А. Карпаты
2	Б. Аппалачи
3	В. Атлас
4	

Вопрос №13. Какая из перечисленных стран является крупным производителем и экспортером пшеницы?

Ответы:

1. Канада
2. Нидерланды
3. Индонезия
4. Турция

Вопрос №14. Определите страну по её краткому описанию: «Эта страна расположена на одном из полуостровов Европы. На небольшом участке имеет сухопутную границу с Россией. Значительную часть территории занимают горы. Вблизи побережья проходит тёплое течение. Основные природные богатства: гидроэнергетический потенциал рек, лесные и рыбные ресурсы, запасы нефти и природного газа в шельфовой зоне».

Ответы:

1. Швеция
2. Италия
3. КНДР
4. Норвегия

Вопрос №15. Какие из утверждений о Европейском Севере верны?

Ответы:

1. На Европейском Севере работает приливная электростанция
2. На территории Европейского Севера находится месторождения алюминиевых руд
3. К коренным народам Европейского Севера относятся калмыки
4. На территории Европейского Севера преобладает арктический климат